













Resuelve las multiplicaciones

Instrucciones: Resuelve correctamente las siguientes multiplicaciones y anota el resultado en los recuadros correspondientes.

 <input type="text"/>	 <input type="text"/>	 <input type="text"/>	 <input type="text"/>
---	---	--	---

 <input type="text"/>	 <input type="text"/>	 <input type="text"/>	 <input type="text"/>
--	--	---	--

 <input type="text"/>	 <input type="text"/>	 <input type="text"/>	 <input type="text"/>
---	---	--	---

Resuelve las multiplicaciones (SOLUCIÓN)

Instrucciones: Resuelve correctamente las siguientes multiplicaciones y anota el resultado en los recuadros correspondientes.



40



42



18



21



10



12



56



14



8



81



0



36